

# MATHEMATIK UHRZEIT

## Arbeitsblatt 1




Führe die Übungen am Computer durch und speichere dein Ergebnis.

Du kannst das Blatt auch ausdrucken.

### 1.

Wo steht der kleine Zeiger?


1 Uhr nachts




1 Uhr mittags



3 Uhr nachmittags



6 Uhr abends



### 2.


Kreuze an, wo viele Kinder um diese Zeit sind!

im Bett



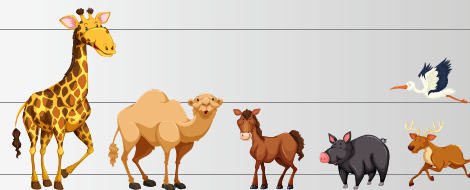
in der Badewanne

im Keller



im Speiseraum der Schule

auf dem Spielplatz



im Tierpark

im Museum



in ihrem Zimmer